

Test Name : Paper-1

Total Questions : 100

Total Marks : 200.00

Duration : 60.00 mins

### Instruction :

Please read the instructions carefully

कृपया सूचना काळजीपूर्वक वाचा

1. Please read the instructions carefully

कृपया सूचना काळजीपूर्वक वाचा

2. The clock will be set at the server. The countdown timer in the top right corner of screen will display the remaining time available for you to complete the examination. When the timer reaches zero, the examination will end by itself. You will not be required to end or submit your examination.

घड्याळ सर्व्हरवर सेट केले जाईल. स्क्रीनच्या वरच्या उजव्या कोपऱ्यातील काउंटडाउन टाइमर तुमच्यासाठी परीक्षा पूर्ण करण्यासाठी उपलब्ध उर्वरित वेळ प्रदर्शित करेल. जेव्हा टाइमर शून्यावर पोहोचतो, तेव्हा परीक्षा स्वतःच संपेल. तुम्हाला तुमची परीक्षा संपवण्याची किंवा सबमिट करण्याची आवश्यकता नाही.

3. Please note that negative marking will be applied for incorrect answers. Eg : Negative marking will be 0.25%(1/4).

कृपया लक्षात घ्या की चुकीच्या उत्तरांसाठी नकारात्मक चिन्हांकन लागू केले जाईल. उदा : नकारात्मक चिन्हांकन 0.25% (1/4) असेल.

4. Please note that your examination session will automatically submit and terminate if you exit the page for any reason, including:

- Incoming calls or messages
- Loss of internet connectivity
- Device battery depletion (laptop, phone, or tablet)
- Power outage or desktop shutdown.

कृपया लक्षात घ्या की तुम्ही कोणत्याही कारणास्तव पृष्ठातून बाहेर पडल्यास तुमचे परीक्षा सत्र आपोआप सबमिट होईल आणि समाप्त होईल, यासह :

- येणारे कॉल किंवा संदेश
- इंटरनेट कनेक्टिव्हिटी तुटणे
- डिव्हाइसची बॅटरी कमी होणे (लॅपटॉप, फोन किंवा टॅबलेट)
- पॉवर आउटेज किंवा डेस्कटॉप शटडाउन.

5.The Question Palette displayed on the right side of screen will show the status of each question using one of the following symbols:

स्क्रीनच्या उजव्या बाजूला प्रदर्शित केलेले प्रश्न पॅलेट खालीलपैकी एक चिन्ह वापरून प्रत्येक प्रश्नाची स्थिती दर्शवेल :

You have not visited the question yet.  
तुम्ही अद्याप प्रश्नाला भेट दिली नाही.

You have not answered the question.  
तुम्ही प्रश्नाचे उत्तर दिले नाही.

You have answered the question.  
तुम्ही प्रश्नाचे उत्तर दिले आहे.

You have NOT answered the question, but have marked the question for review.  
तुम्ही प्रश्नाचे उत्तर दिलेले नाही, परंतु प्रश्नावर पुनरावलोकनासाठी चिन्हांकित केले आहे.

You have answered the question, but marked it for review.  
तुम्ही प्रश्नाचे उत्तर दिले आहे, परंतु पुनरावलोकनासाठी चिन्हांकित केले आहे

Q.1

पर्यायी उत्तरांतील व्यर्थ उद्गारवाची वाक्य कोणते ?

- A. चूप, तू बाहेर जा बरे.
- B. अरे, खरच की, तू येणार होतास तर,
- C. माझं मन बेटे गप्प बसेना
- D. शिव शिव शिव, हे व्हावयास नको होते.

**Answer :** C,

**Solution :** Solution is not available

Q.2

खालीलपैकी कोणत्या वर्णांचा उच्चार करताना शेवटी स्वराचा आधार घ्यावा लागतो ?

- A. स्वर
- B. स्वरादी
- C. व्यंजने
- D. यांपैकी नाही

**Answer :** C,

**Solution :** Solution is not available

Q.3

विधानार्थी व नकारार्थी वाक्य ओळखा :

(अ) असे करतेवेळी मन घट्ट करावे.

(ब) देवळापाशी एक भिकारी झोपला आहे.

(क) त्याला हे चित्र दाखव.

(ड) कष्टाशिवाय यश मिळत नाही.

पर्यायी उत्तरे :

- A. फक्त (अ) आणि (क)
- B. फक्त (ब) आणि (ड)
- C. फक्त (अ) आणि (ड)
- D. फक्त (ब) आणि (क)

**Answer :** B,

**Solution :** Solution is not available

Q.4

खाली दिलेल्या शब्दांतून शब्दांचे शुद्ध रूप कोणते ?

- A. बहीर्मुख
- B. बहिर्मुख
- C. बहीर्मुख
- D. बहिर्मुख

**Answer :** D,

**Solution :** Solution is not available

Q.5

कृतज्ञ म्हणजे -

- A. केलेले उपकार जाणणारा
- B. केलेले उपकार न जाणणारा
- C. उपकाराची परतफेड करणारा
- D. कार्याच्या आज्ञेत असणारा

**Answer :** A,

**Solution :** Solution is not available

Q.6

खाली दिलेल्या उदाहरणांतून कृदन्त तत्पुरुष समासाची उदाहरणे असलेला योग्य पर्याय निवडा.

- A. क्रीडांगण, ऋणमुक्त, राजपुत्र, घरजावई
- B. दररोज, दरमजल, बिनशर्त, बिनधोक
- C. मुखचंद्र, चंद्रमुखी, कमलनयन, चरणकमल
- D. ग्रंथकार, कुंभकार, शेतकरी, कामकरी

**Answer :** D,

**Solution :** Solution is not available

Q.7

खाली दिलेल्या वाक्यांमधून अयोग्य असलेल्या पर्यायी उत्तराची अचूक निवड करा.

- A. व्यंजनात स्वर मिसळून अक्षर बनते.
- B. ज्या वर्णाचा उच्चार स्वराच्या साहाय्यावाचून पूर्ण हो नाही, त्यांना व्यंजने म्हणतात.
- C. दीर्घस्वर व संयुक्तस्वर यांचा उच्चार करण्यास दीर्घश्वास घ्यावा लागतो.
- D. स्पष्ट व खणखणीत उच्चारांना अनुस्वार असे म्हणतात.

**Answer :** C,

**Solution :** Solution is not available

Q.8

जेव्हा क्रियापदाचे रूप कर्त्याच्या किंवा कर्माच्या लिंग, वचनाप्रमाणे बदलत नसून ते नेहमी तृतीय पुरुषी, नपुसकलिंगी व एकवचनी असून स्वतंत्र असते त्याला म्हणतात.

- A. कर्तरी प्रयोग
- B. कर्मणी प्रयोग
- C. भावे प्रयोग
- D. कर्मकर्तरी प्रयोग

**Answer :** C,

**Solution :** Solution is not available

Q.9

गुलामगिरी हे नाम नामाच्या कोणत्या उपप्रकारातील आहे ?

- A. सामान्यनाम
- B. भाववाचन नाम
- C. पदार्थवाचक नाम
- D. समूहवाचक नाम

**Answer :** B,

**Solution :** Solution is not available

Q.10

खालील तद्भव शब्दांचे शब्दगट कोणते ?

(अ) ओट, आग, काज

(ब) झाड, बोका, झोप

(क) काम, तांब्या, कष्ट

(ड) अक्का, खिसा, चप्पल

A. फक्त (अ) आणि (क)

B. फक्त (ब) आणि (ड)

C. फक्त (अ) (ब) आणि (क)

D. फक्त (ब) (क) आणि (ड)

**Answer :** A,

**Solution :** Solution is not available

Q.11

मराठी शाषेचे शिवाजी म्हणून कोणास ओळखले जाते ?

A. बाळशास्त्री जांभेकर

B. दादोबा पांडुरंग

C. विष्णुशास्त्री चिपळूणकर

D. यांपैकी नाही

**Answer :** C,

**Solution :** Solution is not available

Q.12

विठ्ठलाची उभ्याउभ्या झालेली भेट मनाला फारसे समाधान देत नाही. या वाक्यातील अधोरेखित शब्दसमूहासाठी योग्य वाक्यप्रचार कोणता ?

A. धूळपेर

B. पायधूळ

- C. धूळभेट
- D. धूळवाफ

**Answer :** C,

**Solution :** Solution is not available

Q.13

शिवाजी महाराजांनी जिथे स्वराज्याची शपथ घेतली, ते स्थान अजूनही दाखविण्यात येते. वरील वाक्य कोणत्या प्रकारचे आहे ?

- A. मिश्र वाक्य
- B. समुच्चयबोधक संयुक्त वाक्य
- C. परिणामबोधक संयुक्त वाक्य
- D. केवळ वाक्य

**Answer :** A,

**Solution :** Solution is not available

Q.14

घड्याळात नऊ वाजतात, तोच नळाचे पाणी गेले. वाक्यपृथक्करणानुसार या वाक्यातील गौण वाक्य प्रधान वाक्यात रूपांतरित कसे होईल ? योग्य पर्याय निवडा.

- A. घड्याळात नऊ वाजले आणि नळाचे पाणी गेले
- B. घड्याळात नऊ वाजल्याबरोबर नळाचे पाणी गेले.
- C. जेव्हा नळाचे पाणी गेले, तेव्हा घड्याळात नऊ वाजले होते.
- D. जेव्हा नळाचे पाणी जाते, तेव्हा घड्याळात नऊ वाजतात.

**Answer :** C,

**Solution :** Solution is not available

Q.15

खालीलपैकी अव्ययीभाव समासाचे उदाहरण कोणते आहे ?

- A. वेणीफणी
- B. मातापिता
- C. त्रिशंकू
- D. आमरण

**Answer :** D,

**Solution :** Solution is not available

Q.16

गुप्त गोष्ट तिसऱ्यास सांगणे या अर्थाचा वाकप्रचार ओळखा.

- A. दृढ मैत्री होणे
- B. ढवळाढवळ करणे
- C. षटकर्णी होणे
- D. शहानिशा करणे

**Answer :** C,

**Solution :** Solution is not available

Q.17

आत्मसंयमनासाठी करावयाची कृत्ये या शब्दसमूहाला एक शब्द सांगा.

- (अ) यमनियम
- (ब) मन:शांती
- (क) योजकत्व
- (ड) देहबंध

पर्यायी उत्तरे :

- A. फक्त (अ) बरोबर
- B. (ब) व (क) बरोबर
- C. (क) व (ड) बरोबर
- D. फक्त (ड) बरोबर

**Answer :** A,

**Solution :** Solution is not available

Q.18

मराठीत शब्दांच्या एकूण किती जाती आहेत ?

- A. सात
- B. सहा
- C. पाच

D. आट

**Answer :** D,

**Solution :** Solution is not available

Q.19

व्याकरण हे भाषाशुद्ध करणाऱ्या प्रयोजनाला बांधलेले आदेशात्मक शास्त्र आहे. असे मत कोणती व्याकरणकाराने प्रथम मांडले ?

- A. दादोबा पांडुरंग तर्खडकर
- B. विष्णुशास्त्री चिपळूणकर
- C. रा.भि. गुंजीकर
- D. मोरो केशव दामले

**Answer :** A,

**Solution :** Solution is not available

Q.20

कोणत्या समास प्रकारातील सामासिक शब्द हा क्रियाविशेषण अव्यय असतो ?

- A. कर्मधारय
- B. बहुव्रीही
- C. अव्ययीभाव
- D. द्वंद्व

**Answer :** D,

**Solution :** Solution is not available

Q.21

रिकामटेकडा हा शब्द मराठीत कोणत्या भाषेतून आला आहे ?

- A. कानडी
- B. फारसी
- C. अरबी
- D. गुजराती

**Answer :** D,

**Solution :** Solution is not available



Q.22 शुद्ध लेखनाच्या नियमानुसार पर्यायी उत्तरांतील शुद्ध शब्द कोणता ?

- A. अध्यात्मिक
- B. अध्यात्मीक
- C. आध्यात्मिक
- D. आध्यात्मीक

**Answer : C,**

**Solution :** Solution is not available

Q.23

चांदण्या रात्रीचा पंधरवाडा.

- A. चंद्रपक्ष
- B. कृष्णपक्ष
- C. प्रतिपक्ष
- D. शुक्लपक्ष

**Answer : D,**

**Solution :** Solution is not available

Q.24

बस धातूचे तृतीय पुरुषी, पुल्लिंगी अनेकवचनी, भूतकाळी रूप ओळखा.

- A. बसला
- B. बसले
- C. बसल्या
- D. बसतील

**Answer : B,**

**Solution :** Solution is not available

Q.25

संधीफोडी ओळखा : नदीत

- A. नदी + त
- B. नद + ईत
- C. नद + इत
- D. नदी + आत

**Answer :** D,

**Solution :** Solution is not available

Q.26

Identify the incorrect adverb/s.

(a) fastly

(b) contemptuously

(c) slowly

(d) academically

(e) seemly

Answer Options :

A. b and a

B. a and e

C. c and d

D. a and d

**Answer :** B,

**Solution :** Solution is not available

Q.27

Choose the correct indirect form of given sentence.

He said, "How do you manage to finish your work always in time?"

A. He inquired how I managed to finish my work always in time.

B. He asked me how did I managed to finish my work always in time.

C. He demanded that how do I manage to finish my work always in time.

D. He questioned me as to how did I manage to finish my work always in time.

**Answer :** A,

**Solution :** Solution is not available

Q.28

Select the correct meaning of the underlined word :

There is a great affinity between trees and men.

- A. compassion
- B. respect
- C. resemblance
- D. proximity

**Answer :** C,

**Solution :** Solution is not available

Q.29

A book which gives information on all subjects.

- A. Encyclopaedia
- B. Catalogue
- C. Directory
- D. Album

**Answer :** A,

**Solution :** Solution is not available

Q.30

Choose the correct sentence without an error in the use of Noun.

- A. He gave us much good advice
- B. He gave us many good advices
- C. He gave us much good advise
- D. He gave us many good advises

**Answer :** A,

**Solution :** Solution is not available

Q.31

When we went to the cinema, the film \_\_\_\_\_

- A. had already started
- B. has already stated
- C. was already started
- D. none

**Answer :** A,

**Solution :** Solution is not available

Q.32

No other metal is as useful as Iron. (Change into superlative Degree)

- A. Iron is more useful than any other metal.
- B. Iron is the most useful of all metals.
- C. Iron is not the most useful of all metals
- D. Iron is not more useful than any other metals

**Answer :** B,

**Solution :** Solution is not available

Q.33

Controlled and cleanly night and day.

- A. Repetition
- B. Hyperbole
- C. Tautology
- D. Alliteration

**Answer :** D,

**Solution :** Solution is not available

Q.34

Which of the following is the closest synonym of cop ?

- A. guard
- B. officer
- C. police
- D. watchman

**Answer :** B,

**Solution :** Solution is not available

Q.35

Very few men are as generous as he is. (change the degree of comparison)

- A. He is the most generous man.
- B. He is one of the most generous man.
- C. He is one of the most generous men.
- D. He is one of the few generous men.

**Answer :** C,

**Solution :** Solution is not available

Q.36

Choose the meanings of the word given in capitals in the given sentence (base form).

The vegetables were planted in neat ROWS.

- (a) A serious disagreement/argument
- (b) A loud unpleasant noise
- (c) To move a boat through water
- (d) A number of objects arranged in a line

Answer Option :

- A. Only (a)
- B. Only (a) and (b)
- C. Only (b) and (c)
- D. Only (d)

**Answer :** D,

**Solution :** Solution is not available

Q.37

Choose the correct antonym of Equality.

- A. Inequality
- B. Inequality
- C. Unequally
- D. Similarly

**Answer :** A,

**Solution :** Solution is not available

Q.38 Match the following.

A B

- (a) Infirmary(i) a home for orphans
- (b) Orphanage(ii) a place for ammunition and weapons
- (c) Arsenal(iii) a place for dogs
- (d) Kennel(iv) a home for old persons

(a) (b) (c) (d)

- A. (iv)(i)(ii)(iii)
- B. (ii)(i)(iv)(iii)
- C. (iii)(i)(ii)(iv)
- D. (iv)(i)(iii)(ii)

**Answer :** A,

**Solution :** Solution is not available

Q.39

What would be the right question for getting the underlined word as answer ?

Rahul told Saurav to meet him at the station in the evening.

- A. What did Rahul tell Saurav ?
- B. Who did Rahul want to meet ?
- C. Whom did Rahul talk to ?
- D. Who did Rahul talk to ?

**Answer :** C,

**Solution :** Solution is not available

Q.40

Give Correct word for "a specialist in diseases and defects of the eye"

- A. Osler
- B. Oculist
- C. Optician
- D. Optics

**Answer :** B,

**Solution :** Solution is not available

Q.41

a) Ghosts are not corporal beings.

b) In our schools the children are not given any corporal punishment.

(Identify the correct sentence/s)

A. Only a

B. Only b

C. both a and b

D. Neither a nor b

**Answer :** B,

**Solution :** Solution is not available

Q.42

He worked hard that he might pass the examination.

(Choose the correct simple sentence form of the above sentence)

A. He worked hard and passed the examination.

B. He worked hard to pass the examination

C. He worked hard so that he could pass the examination.

D. If you work hard you many pass the examination.

**Answer :** B,

**Solution :** Solution is not available

Q.43

Identify the sentence in which the word 'milk' is used as an adverb.

(a) Milk is good for health.

(b) I gave the baby a milk chocolate.

(c) He wore a milk white turban.

A. Only c

- B. Only b and c
- C. Only b
- D. Only a

**Answer :** A,

**Solution :** Solution is not available

Q.44

He \_\_\_\_\_ also be an inspiration. (Supply a suitable modal auxiliary showing 'ability')

- A. can
- B. could
- C. should
- D. may

**Answer :** A,

**Solution :** Solution is not available

Q.45

Fill in the blank with an appropriate word from the list given below.

'Don't disturb him, he is busy with the \_\_\_\_\_ of some new specimens he found this morning.'

- A. Classify
- B. Classifying
- C. Classification
- D. Classing

**Answer :** C,

**Solution :** Solution is not available

Q.46

Match the following.

A B

- (a) One who tries to avoid reality(i) Gipsy
- (b) A person belonging to a wandering race(ii) Fatalist
- (c) One who believes in fate(iii) Credulous



(d) One who believes very easily(iv) Escapist

(a)(b)(c)(d)

- A. (iii)(iv)(ii)(i)
- B. (ii)(i)(iv)(iii)
- C. (iv)(i)(ii)(iii)
- D. (iv)(iii)(ii)(i)

**Answer :** C,

**Solution :** Solution is not available

Q.47

If I knew how to play the guitar. I would play it every day.

Which of the following alternatives can replace the underlined parts in the above sentence to change the nature of the condition ?

- A. Had known, would have played.
- B. Had known, will have played.
- C. Had known, have played.
- D. Had known, would play.

**Answer :** A,

**Solution :** Solution is not available

Q.48

I was surprised by his urbane behaviour. Which one of the following alternatives is nearest in the above sentence ?

- A. ruler
- B. polite
- C. proper
- D. town

**Answer :** B,

**Solution :** Solution is not available

Q.49

Which is the correct indirect narration of the following sentence ?

The king said to his minister, "Are these my brave heroes ?"

- A. The king asked his minister if those were his brave heroes.
- B. The king asked his minister that those were his brave heroes.
- C. The king told his minister those were his brave heroes.
- D. The king ordered his minister if those were his brave heroes.

**Answer :** A,

**Solution :** Solution is not available

Q.50

Keep to the left. (The imperative structure above expresses \_\_)

- A. a command
- B. a solemn advice
- C. a prayer
- D. a petition

**Answer :** A,

**Solution :** Solution is not available

Q.51

मुंबई राज्य विधानसभेचे पहिले सभापती कोण होते ?

- A. बाळासाहेब जी. खैर
- B. यशवतराव चव्हाण
- C. ग.वा.मावळणकर
- D. यापैकी नाही

**Answer :** C,

**Solution :** Solution is not available

Q.52

महाराष्ट्राचे पहिले धर्मसुधारक कोण होते ?

- A. दादोबा पांडुरंग तर्खडकर
- B. स्वामी विवेकानंद
- C. भाऊराव पायगोंडा पाटील
- D. गोपाळ हरी देशमुख

**Answer : A,**

**Solution :** Solution is not available

Q.53

रामचंद्र विनायक टिकेकर या मराठी साहित्यकाराचे टोपण नाव ओळखा ?

- A. दस्तुरखुद्द
- B. रियासतकार
- C. गोविंद पौत्र
- D. धनुर्धारी

**Answer : D,**

**Solution :** Solution is not available

Q.54

महाराष्ट्र सरकारने राज्य फुलपाखरु म्हणून ----- पुढीलपाखराला मान्यता दिले आहे.

- A. निम्फॅलिडी
- B. ब्ल्यू मॉरमॉन
- C. पॅपिलिओनिडे
- D. यापैकी नाही.

**Answer : B,**

**Solution :** Solution is not available

Q.55

पोलीस पाटील नेमण्याचे अधिकार कोणास आहे ?

- A. जिल्हाधिकारी
- B. उपविभागीय अधिकारी
- C. तहसिलदार
- D. नायब तहसिलदार

**Answer : B,**

**Solution :** Solution is not available

Q.56

खालील दिलेल्या संशोधन संस्थापैकी कोणती अणुक्षेत्रातील अनुदानित संशोधन संस्था नाही ?

- A. टाटा मेमोरियल सेंटर
- B. अँटोमिक एनर्जी एज्युकेशन सोसायटी
- C. अँटोमिक पॉवर प्लँट लिमिटेड, तारापूर
- D. बोर्ड ऑफ रिसर्च इन न्युक्लियर सायन्सेस

**Answer :** C,

**Solution :** Solution is not available

Q.57

रेल्वेमधील आरक्षण तिकिटासंदर्भात होणारा गैरव्यवहार थांबवण्यासाठी कोणते ऑपरेशन करण्यात आले ?

- A. ऑपरेशन सतर्क
- B. ऑपरेशन रेल्वे
- C. ऑपरेशन नार्कोस
- D. यापैकी नाही.

**Answer :** D,

**Solution :** Solution is not available

Q.58

आर्थिक साक्षरता सप्ताह २०२३ -----

- A. १३ ते १७ फेब्रुवारी
- B. ३ ते ७ फेब्रुवारी
- C. १० ते १६ जानेवारी
- D. १ ते ७ ऑगस्ट

**Answer :** A,

**Solution :** Solution is not available

Q.59

कैलाश सत्यार्थी यांना कोणत्या विषयामध्ये नोबेल पुरस्कार मिळाले ?

- A. साहित्य
- B. शांतता
- C. अर्थशास्त्र
- D. रसायनशास्त्र

**Answer :** B,

**Solution :** Solution is not available

Q.60

भारतामध्ये राष्ट्रीय मानवी हक्क आयोगाची स्थापना कोणत्या वर्षी झाली ?

- A. १९९३
- B. १९८३
- C. १९९२
- D. १९९१

**Answer :** A,

**Solution :** Solution is not available

Q.61

आसाम राज्यामध्ये एकुण किती तेलशुद्धीकरण कारखाने आहेत ?

- A. ७
- B. १२
- C. २
- D. ५

**Answer :** D,

**Solution :** Solution is not available

Q.62

मैपल लीफ हे राष्ट्रीय चिन्ह कोणत्या देशाचे आहे ?

- A. स्पेन
- B. कॅनडा
- C. इटली
- D. सिंगापूर

**Answer :** B,

**Solution :** Solution is not available

Q.63

महाराष्ट्र राज्य सरकारी आदिवासी विकास महामंडळाचे मुख्यालय कोणत्या ठिकाणी आहे ?

- A. वाशिम
- B. अकोला
- C. अहमदनगर
- D. नाशिक

**Answer :** D,

**Solution :** Solution is not available

Q.64

दि इकॉनॉमिकल हिस्ट्री ऑफ इंडिया या प्रसिद्ध ग्रंथाचे लेखक कोण ?

- A. पी.व्ही. दत्त
- B. आर.सी. दत्त
- C. सी.आर.दत्त
- D. यापैकी नाही

**Answer :** B,

**Solution :** Solution is not available

Q.65

हरनाई आणि मुरुड हा समुद्रकिनारा महाराष्ट्रातील कोणत्या जिल्ह्यात स्थित आहे ?

- A. रायगड
- B. रत्नागिरी
- C. सिंधुदुर्ग
- D. वरील सर्व

**Answer :** B,

**Solution :** Solution is not available

Q.66

भारतरत्न मिळविणारी पहिली महाराष्ट्रीयन महिला कोण ?

- A. लता मंगेशकर
- B. आनंदीबाई जोशी
- C. शीतल महाजन
- D. यापैकी नाही

**Answer :** A,

**Solution :** Solution is not available

Q.67

इंग्लंडला भेट देणारा पहिला भारतीय कोण ?

- A. दादाभाई नौरोजी
- B. महात्मा गांधी
- C. राजा राममोहन रॉय
- D. व्योमेशचंद्र बॅनर्जी

**Answer :** C,

**Solution :** Solution is not available

Q.68

१४ जानेवारी १७६१ रोजी पानिपतची कितवी लढाई पार पडली ?

- A. पहिली
- B. दुसरी
- C. तिसरी
- D. सांगता येत नाही.

**Answer :** C,

**Solution :** Solution is not available

Q.69

धूपगड शिखराची उंची किती ?

- A. १३५० मी.
- B. २६१५ मी.
- C. १६४६ मी.
- D. १७२२ मी.

**Answer :** A,

**Solution :** Solution is not available

Q.70

माजुली बेटे कोणत्या नदीवर वसलेले आहे ?

- A. नर्मदा
- B. तापी
- C. ब्रह्मपुत्रा
- D. सिंधू

**Answer :** C,

**Solution :** Solution is not available

Q.71

राष्ट्रीय कॅन्सर नियंत्रण कार्यक्रम कोणत्या वर्षी स्थापन करण्यात आले ?

- A. १९७३
- B. १९७४
- C. १९७५
- D. १९७६

**Answer :** C,

**Solution :** Solution is not available

Q.72

खालील पैकी कोणती गुप्तचर संस्था इस्त्राईल या देशाची आहे ?

- A. मोसाद
- B. मुखबरात
- C. सावाक
- D. अल मुखबरात

**Answer :** A,

**Solution :** Solution is not available

Q.73

मद्रास विद्यापीठची स्थापना कोणत्या दिवशी झाली ?

- A. १८ जुलै, १८५७
- B. २४ जानेवारी १८५७
- C. ५ सप्टेंबर १८५७
- D. २३ सप्टेंबर १८५७



**Answer :** C,

**Solution :** Solution is not available

Q.74

त्रिस्त्ररीय पंचायत राजची संकल्पना कोणत्या समितीने मांडली ?

- A. बलवंतराय मेहता समिती
- B. अशोक मेहता समिती
- C. हनुमंत राव समिती
- D. जी. बी. केशवराव समिती

**Answer :** A,

**Solution :** Solution is not available

Q.75

रक्तगटाचा शोध कोणी लावला ?

- A. जोसेफ मोनियर
- B. विल्यम केली
- C. विल्यम स्टर्जन
- D. कार्ल लँडस्टेनर

**Answer :** D,

**Solution :** Solution is not available

Q.76

5 जून या पर्यावरण दिनानिमित्त इ. 10 वी च्या विद्यार्थ्यांना गणित शिक्षकाने एवूँण तीनशे रोपे देऊन समद्विभुज त्रिकोणाकृती जमीनवर वृक्षारोपन करण्यास प्रवृत्त केले. पहिल्या रांगेत समद्विभूज त्रिकोणाकृतीच्या टोकावर एक रोप लावून प्रत्येक रांगेत रोपांची संख्या 1 ने वाढविण्यास सांगितले. तर त्रिकोणाकृतीचा पाया असलेल्या शेवटच्या रांगेत किती रोपे लावली जातील ?

- A. 12
- B. 24
- C. 36
- D. 48

**Answer :** B,

**Solution :** Solution is not available

Q.77 16 वस्तूंचे सरासरी वजन 32 आढळले. पुन्हा तपासणी केली, तेव्हा दोन वस्तूंचे वजन अनुक्रमे 34 आणि 26च्या ऐवजी 24 आणि 16 असे नोंदवलेले आढळले. दिलेल्या पर्यायांतून अचूक सरासरी निवडा.

- A. 29.50
- B. 33
- C. 33.25
- D. 32.50

**Answer :** C,

**Solution :** Solution is not available

Q.78 किंमत काढा.

$$\frac{\sqrt{49}}{\sqrt{1 + \sqrt{41 + \sqrt{17 + \sqrt{64}}}}}$$

- A. 7
- B.  $\sqrt{7}$
- C.  $2\sqrt{7}$
- D. 14

**Answer :** B,

**Solution :** Solution is not available

Q.79 एका आयताकृती मजल्याची लांबी 4 मीटर आणि रूंदी 2.2 मीटर आहे. 140 सेमी x 60 सेमी आकाराच्या टाईल्स (फरशी) अशा पद्धतीने बसवायच्या आहेत की त्या एकमेकांवर ठेवल्या नसल्या पाहिजेत. फरशी ठेवताना ती कशाही पद्धतीने ठेवला येईल फक्त त्यांच्या कडा या त्या मजल्याच्या कड्यांच्या समांतर असायला हवेत. अशा प्रकारे त्या मजल्यावर जास्तीत जास्त किती फरश्या बसवता येतील ?

- A. 6
- B. 7
- C. 8
- D. 9

**Answer :** C,

**Solution :** Solution is not available

Q.80

सोडवा :  $4^{-2} [1-2 (-1)^{-3}]^{-2} = ?$

A. 32

B.  $-\frac{1}{144}$

C. 12-2

D.  $\left(\frac{1}{28}\right)^2$

**Answer :** C,

**Solution :** Solution is not available

Q.81

दोन गोलाकृतीच्या त्रिज्येचे गुणोत्तर 1 : 2 प्रमाणात आहे. तर त्यांच्या पृष्ठफळाचे गुणोत्तर किती ?

A. 1 : 2

B. 1 : 4 1 : 8 1 : 16

**Answer :** B,

**Solution :** Solution is not available

Q.82

दिशा सायकलवरून तिच्या घराच्या 2 किमी दक्षिणेला तिची मैत्रिण मेलनीला भेटायला तिच्या घरी गेली. तेथून त्या दोघी पश्चिमेला 5 किती वर म्हारूखला भेटायला तिच्या घरी स्वतंत्र सायकलीवरून गेल्या. तेथून त्या तिघी मैत्रिणी स्वतंत्र सायकलीवरून 2 किमी उत्तरेला, 11 किती पूर्वेला, 2 किमी दक्षिणेला आणि शेवटी 5 किती पश्चिमेला गेल्या. या ठिकाणापासून त्यांची एकाच वेळी, समान गतीने, सर्वात कमी लांबीच्या मार्गाने स्वतःच्या घरी परतायला सुरुवात केली तर कोणती व्यक्ती सर्वात शेवटी घरी पाहोचेल ?

A. दिशा

B. मेलनी

C. म्हारूख

D. माहिती पुरेशी नाही

**Answer :** C,

**Solution :** Solution is not available

Q.83 REST, MITE, STIR आणि TRIM यापैकी तीन शब्दांच्या अंक संकेतांची अनुक्रमरहित यादी 1456, 3154 व 4231 अशी आहे. SEMI या शब्दासाठी संकेत निवडा.

- A. 5625
- B. 4265
- C. 3265
- D. 3526

**Answer :** C,

**Solution :** Solution is not available

Q.84

जर दोन संख्यांचा गुणाकार 2160 आहे व त्यांचा म.सा.वि. 12 आहे तर ल.सा.वि. -----

- A. 60
- B. 96
- C. 180
- D. 36

**Answer :** C,

**Solution :** Solution is not available

Q.85

सोडवा :

$$(16 \div 4) \div 4 \{1 + 2(5 - 3) - 4(3 - 2)\}$$

- A. -4
- B. 1
- C. 4
- D. 2

**Answer :** B,

**Solution :** Solution is not available

Q.86

उन्हाळी सुट्टीत उन्हाळी शिबीरात गेलेल्या अंकितने भटकंती, पोहणे व नौकानयन यात भाग घेतला. या उन्हाळ्यात संगीत वर्गात गायन, नर्तन आणि गिटार वाजविण्यास शिकण्याची त्याची इच्छा आहे.

वरील माहितीवरून खाली दिलेले चार निष्कर्ष काढलेले आहेत. त्यापैकी कोणता तर्कसंगत आहे ?

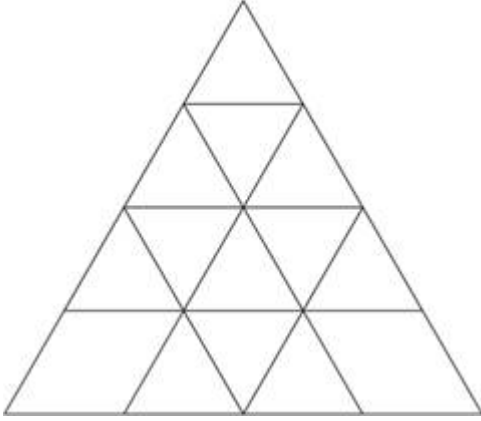
- A. अंकितच्या पालकांची त्यांने गिटार वाजवावा अशी इच्छा आहे.
- B. अंकितला मैदानी कृत्यापेक्षा संगीत आवडते.
- C. अंकित प्रत्येक उन्हाळ्यात कोणत्या तरी शिबिरात जातो.
- D. अंकितला गाणे व नाचणे आवडते.

**Answer :** D,

**Solution :** Solution is not available

Q.87

दिलेल्या आकृतीत एकूण किती त्रिकोण आहेत ?



- A. 27
- B. 26
- C. 23
- D. 22

**Answer :** C,

**Solution :** Solution is not available

Q.88

क्रमाने येणारी पुढील आकृती दिलेल्या पर्यायांमधून निवडा.

B	DD	FW	UU	FL	D	
W	B	L	W	T		?
F	UU	WF	DD	LF	U	

- A. 

D	F
L	
U	T
- B. 

U	L
D	
T	F
- C. 

D	U
L	
F	T
- D. 

T	F
U	
L	D

**Answer :** A,

**Solution :** Solution is not available

Q.89

जर THOUGHTFULESSNESS या अक्षर समूहातील पहिली 6 वर्णाक्षरे उलट्या क्रमाने लिहिली व त्यानंतरची 6 वर्णाक्षरे तशीच कायम ठेवून उर्वरीत वर्णाक्षरे उलट्या क्रमाने लिहिली तर या नवीन वर्णमालीकेतील मधले वर्णाक्षर कोणते असेल ?

- A. S  
B. L  
C. U  
D. N

**Answer :** C,

**Solution :** Solution is not available

Q.90

पायल हिचा जन्म 18 ऑक्टो. 1993 रोजी झाला. त्यावर्षी गांधी जयंती शनिवारी होती. तर पायलचा आठवा वाढदिवस कोणत्या वारी येईल ?

- A. गुरूवार  
B. बुधवार  
C. सोमवार  
D. रविवार

**Answer : A,**

**Solution :** Solution is not available

Q.91

मुंबईहून पंढरपूरला जाणाऱ्या दोन एस.टी. एकाच ठिकाणाहून (मुंबईहून) सुटल्या, पहिली ताशी 68 कि.मी. वेगाने सायं. 4.50 वाजता सुटली, दुसरी गाडी ताशी 85 कि.मी. वेगाने सायं. 6.20 वाजता सुटली, तर त्या दोन्ही एस.टी. किती वाजता एकमेकीस भेटतील ?

- A. दु. 12.20 वा.
- B. दु. 1.20 वा.
- C. रात्री 12.20 वा.
- D. रात्री 1.20 वा.

**Answer : C,**

**Solution :** Solution is not available

Q.92

चार बहिणींच्या 5 वर्षांपूर्वीच्या वयाची बेरीज 80 वर्षे होती तर आजपासून 15 वर्षांनंतर त्यांच्या वयाची बेरीज किती असेल ?

- A. 60
- B. 100
- C. 160
- D. 95

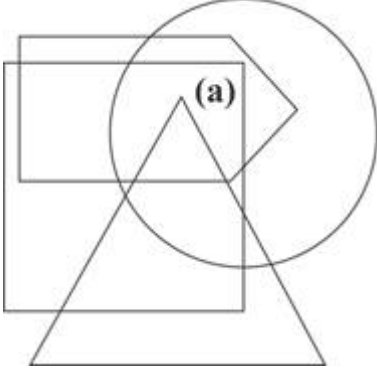
**Answer : C,**

**Solution :** Solution is not available

Q.93

सोबतची वेनाकृति विविध भाषा बोलणाऱ्या व्यक्ती प्रतिरूपित करते, वर्तूळ मराठी, त्रिकोण गुजराती, पंचकोन कन्नड आणि चौरस हिंदी बोलणाऱ्या व्यक्ती प्रतिरूपित करतात.

क्षेत्र (a) प्रतिरूपित करणाऱ्या व्यक्ती बोलत असलेला भाषांचा गट निवडा.



- A. गुजराती शिवाय एकही नाही
- B. कन्नड खेरीज सर्व भाषा
- C. मराठी व हिंदी
- D. गुजरात खेरीज सर्व भाषा

**Answer :** D,

**Solution :** Solution is not available

Q.94

एका शाळेत पक्षी निरीक्षण, रंगकला, बागकाम, चित्रपट आस्वाद आणि पुस्तक वाचन अशी पाच छंद मंडळे आहेत. पक्षी निरीक्षण गट प्रत्येक 6 व्या दिवशी, चित्रपट आस्वाद गट दर 5 व्या दिवशी, पुस्तक वाचन गट दर 4 थ्या दिवशी, रंगकला गट दर 3 व्या दिवशी आणि बागकाम गट दर 2 व्या दिवशी एकत्र येतात. शाळेच्या 180 दिवसांच्या कालावधीत हे गट जितक्या वेळा एका दिवशी भेटतील त्या संबंधीचे चुकीचे विधान निवडा.

- A. चित्रपट आस्वाद आणि पुस्तक वाचन गट 9 दिवस एकत्र भेटतील.
- B. सर्व गट 3 दिवस एकत्र भेटतील.
- C. चित्रपट आस्वाद, बागकाम आणि पुस्तक वाचन गट 8 दिवस एकत्र भेटतील.
- D. पक्षी निरीक्षण आणि रंगकाम गट 30 दिवस एकत्र भेटतील.

**Answer :** C,

**Solution :** Solution is not available

Q.95

एका दुकानदाराने 100 छत्र्या रु. 80 याप्रमाणे विकत घेतल्या व त्याची छापील किंमत रु. 100 एक याप्रमाणे ठेवली. त्याने 60 छत्र्या छापील किंमतीस व उरलेल्या छत्र्या 10% सूट छापील किंमतीवर याप्रमाणे विकल्या. तर त्या दुकानदारास शेकडा किती नफा झाला ?

- A. 15%
- B. 25%
- C. 20%



D. 10%

**Answer :** C,

**Solution :** Solution is not available

Q.96

पुढील विधाने तपासा :

अ) कंटाळा आलेला असेल तरच मी टीव्ही पाहतो.

ब) माझा भाऊ सोबत असताना कधीही मला कंटाळा येत नाही.

क) नाट्यगृहात जाताना मी माझ्या भावास सोबत घेऊन जातो.

वरील विधानांच्या संदर्भात खालीलपैकी कोणते निष्कर्ष वैध आहेत ?

A. कंटाळा आला असेल तर मी टीव्ही पाहतो.

B. कंटाळा आला असेल तर मी भावाची साथ घेतो.

C. भावासोबत नसेल तर मी टीव्ही पाहतो.

D. कंटाळा आलेला नसेल तर मी टीव्ही पाहत नाही.

**Answer :** D,

**Solution :** Solution is not available

Q.97

A, B आणि C हे तीन व्यक्ती एक रांगेत उभे आहेत परंतु याचक्रमाने ते उभे असतील असे नाही. A आणि B यांच्यामध्ये 4 व्यक्ती आहेत व B आणि C यांच्यामध्ये 7 व्यक्ती आहेत. जर C च्या पुढे 11 व्यक्ती आणि A च्या मागे 13 व्यक्ती उभे असतील तर त्या रांगेत उभ्या असणाऱ्या व्यक्तींची एकूण कमीत कमी संख्या किती असेल ?

A. 22

B. 28

C. 32

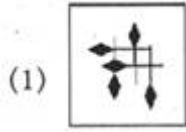

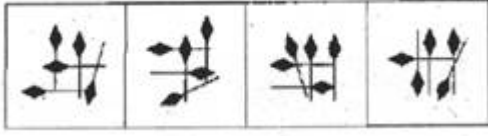
D. 38

**Answer :** A,

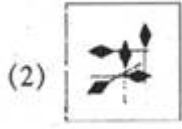
**Solution :** Solution is not available

Q.98

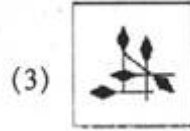
कोणत्याही गटात सामील होऊ न शकणारा पर्याय निवडा :



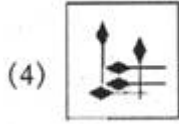
A.



B.



C.



D.

**Answer :** D,

**Solution :** Solution is not available

Q.99

एका प्रतलात 8 बिंदू आहेत, त्यातील कोणतेही तीन बिंदू एकरेषीय नाहीत. एका वेळी दोन बिंदूंना जोडणाऱ्या रेषा काढल्या, तर अशा किती रेषा काढता येतील ?


- A. 25
- B. 29
- C. 27
- D. 28

**Answer :** D,

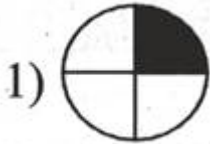
**Solution :** Solution is not available

Q.100

खालील आकृती लक्षात घ्या.



खाली दिलेल्या आकृत्यांपैकी कोणती आकृती वरील सारणीतील प्रश्नचिन्हाच्या जागी उचित ठरेल ?



A.



B.



C.



D.

**Answer :** D,

**Solution :** Solution is not available

